

**ПРОЕКТ**

**Государственная итоговая аттестация по образовательным  
программам основного общего образования в форме  
основного государственного экзамена (ОГЭ)**

**Демонстрационный вариант  
контрольных измерительных материалов для  
проведения в 2017 году основного государственного  
экзамена по ИНФОРМАТИКЕ и ИКТ**

подготовлен Федеральным государственным бюджетным  
научным учреждением  
«ФЕДЕРАЛЬНЫЙ ИНСТИТУТ ПЕДАГОГИЧЕСКИХ ИЗМЕРЕНИЙ»

**Демонстрационный вариант  
контрольных измерительных материалов для  
проведения в 2017 году основного государственного  
экзамена по ИНФОРМАТИКЕ и ИКТ**

**Пояснения к демонстрационному варианту экзаменационной работы**

При ознакомлении с демонстрационным вариантом 2017 г. следует иметь в виду, что задания, включённые в демонстрационный вариант, не отражают всех элементов содержания, которые будут проверяться с помощью вариантов КИМ в 2017 г. Полный перечень элементов содержания, которые могут контролироваться на экзамене 2017 г., приведён в Кодификаторе элементов содержания и требований к уровню подготовки обучающихся для проведения основного государственного экзамена, размещённом на сайте: [www.fipi.ru](http://www.fipi.ru).

Демонстрационный вариант предназначен для того, чтобы дать возможность любому участнику экзамена и широкой общественности составить представление о структуре экзаменационной работы, количестве и форме заданий, а также об их уровне сложности. Приведённые критерии оценивания выполнения заданий с развёрнутым ответом, включённые в демонстрационный вариант экзаменационной работы, позволят составить представление о требованиях к полноте и правильности записи развёрнутого ответа.

Эти сведения дают выпускникам возможность выработать стратегию подготовки к сдаче экзамена по информатике и ИКТ.

## Демонстрационный вариант 2017 года

## Инструкция по выполнению работы

Экзаменационная работа состоит из двух частей, включающих в себя 20 заданий. Часть 1 содержит 18 заданий с кратким ответом, часть 2 содержит 2 задания, которые необходимо выполнить на компьютере.

На выполнение экзаменационной работы по информатике отводится 2 часа 30 минут (150 минут). К выполнению заданий части 2 можно перейти, только сдав выполненные задания части 1 экзаменационной работы. Вы можете самостоятельно определять время, которое отводите на выполнение заданий части 1, но рекомендуемое время – 1 час 15 минут (75 минут) и на выполнение заданий части 2 также 1 час 15 минут (75 минут).

При выполнении заданий части 1 **нельзя** пользоваться компьютером, калькулятором, справочной литературой.

Ответы к заданиям 1–6 записываются в виде одной цифры, которая соответствует номеру правильного ответа. Эту цифру запишите в поле ответа в тексте работы, а затем перенесите в бланк ответов № 1.

Ответы к заданиям 7–18 записываются в виде числа, последовательности букв или цифр. Ответ запишите в поле ответа в тексте работы, а затем перенесите в бланк ответов № 1. Если в задании в качестве ответа требуется записать последовательность цифр или букв, при переносе ответа на бланк следует указать только эту последовательность, без пробелов, запятых и других дополнительных символов.

Часть 2 содержит 2 задания (19, 20). Результатом выполнения каждого из этих заданий является отдельный файл. Формат файла, его имя и каталог для сохранения Вам сообщат организаторы экзамена.

При выполнении заданий можно пользоваться черновиком. Записи в черновике не учитываются при оценивании работы.

Баллы, полученные Вами за выполненные задания, суммируются. Постарайтесь выполнить как можно больше заданий и набрать наибольшее количество баллов.

*Желаем успеха!*

## Часть 1

**Ответом к заданиям 1–6 является одна цифра, которая соответствует номеру правильного ответа. Запишите эту цифру в поле ответа в тексте работы, а затем перенесите в БЛАНК ОТВЕТОВ № 1 справа от номера соответствующего задания, начиная с первой клеточки.**

**1** В одной из кодировок Unicode каждый символ кодируется 16 битами. Определите размер следующего предложения в данной кодировке.

**Я к вам пишу – чего же боле? Что я могу ещё сказать?**

- 1) 52 байт
- 2) 832 бит
- 3) 416 байт
- 4) 104 бит

Ответ:

**2** Для какого из приведённых чисел ложно высказывание:  
**НЕ** (число > 50) **ИЛИ** (число чётное)?

- 1) 123
- 2) 56
- 3) 9
- 4) 8

Ответ:

**3** Между населёнными пунктами А, В, С, D, Е построены дороги, протяжённость которых (в километрах) приведена в таблице.

	А	В	С	D	Е
А		2	5	1	
В	2		1		
С	5	1		3	2
D	1		3		
Е			2		

Определите длину кратчайшего пути между пунктами А и Е. Передвигаться можно только по дорогам, протяжённость которых указана в таблице.

- 1) 4
- 2) 5
- 3) 6
- 4) 7

Ответ:

4 В некотором каталоге хранился файл **Хризантема.doc**, имевший полное имя **D:\2013\Осень\Хризантема.doc**. В этом каталоге создали подкаталог **Ноябрь** и файл **Хризантема.doc** переместили в созданный подкаталог. Укажите полное имя этого файла после перемещения.

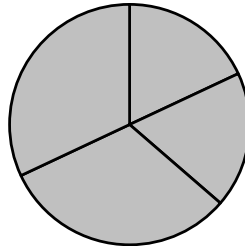
- 1) D:\2013\Осень\Ноябрь\Хризантема.doc
- 2) D:\Ноябрь\Хризантема.doc
- 3) D:\2013\Осень\Хризантема.doc
- 4) D:\2013\Ноябрь\Хризантема.doc

Ответ:

5 Дан фрагмент электронной таблицы.

	<b>A</b>	<b>B</b>	<b>C</b>	<b>D</b>
<b>1</b>	3	4	2	5
<b>2</b>		=D1-1	=A1+B1	=C1+D1

Какая из формул, приведённых ниже, может быть записана в ячейке A2, чтобы построенная после выполнения вычислений диаграмма по значениям диапазона ячеек A2:D2 соответствовала рисунку?



- 1) =D1-A1
- 2) =B1/C1
- 3) =D1-C1+1
- 4) =B1\*4

Ответ:

6 Исполнитель Чертёжник перемещается на координатной плоскости, оставляя след в виде линии. Чертёжник может выполнять команду **Сместиться на (a, b)** (где  $a, b$  – целые числа), перемещающую Чертёжника из точки с координатами  $(x, y)$  в точку с координатами  $(x + a, y + b)$ . Если числа  $a, b$  положительные, значение соответствующей координаты увеличивается; если отрицательные – уменьшается.

Например, если Чертёжник находится в точке с координатами  $(9, 5)$ , то команда **Сместиться на (1, -2)** переместит Чертёжника в точку  $(10, 3)$ .

Запись

**Повтори k раз**

**Команда1 Команда2 Команда3**

**конец**

означает, что последовательность команд **Команда1 Команда2 Команда3** повторится  $k$  раз.

Чертёжнику был дан для исполнения следующий алгоритм:

**Повтори 3 раз**

**Сместиться на (-2, -3) Сместиться на (3, 2) Сместиться на (-4, 0)**

**конец**

На какую одну команду можно заменить этот алгоритм, чтобы Чертёжник оказался в той же точке, что и после выполнения алгоритма?

- 1) Сместиться на  $(-9, -3)$
- 2) Сместиться на  $(-3, 9)$
- 3) Сместиться на  $(-3, -1)$
- 4) Сместиться на  $(9, 3)$

Ответ:

**Ответами к заданиям 7–18 являются число, последовательность букв или цифр, которые следует записать в БЛАНК ОТВЕТОВ № 1 справа от номера соответствующего задания, начиная с первой клеточки, без пробелов, запятых и других дополнительных символов. Каждый символ пишете в отдельной клеточке в соответствии с приведёнными в бланке образцами.**

- 7 Разведчик передал в штаб радиogramму

• - - - • • • • • - - - - -

В этой радиogramме содержится последовательность букв, в которой встречаются только буквы А, Д, Ж, Л, Т. Каждая буква закодирована с помощью азбуки Морзе. Разделителей между кодами букв нет. Запишите в ответе переданную последовательность букв.

Нужный фрагмент азбуки Морзе приведён ниже.

А	Д	Ж	Л	Т
• -	- • •	• - • •	-	• • • -

Ответ: \_\_\_\_\_.

- 8 В программе знак «:=» обозначает оператор присваивания, знаки «+», «-», «\*» и «/» – соответственно операции сложения, вычитания, умножения и деления. Правила выполнения операций и порядок действий соответствуют правилам арифметики.

Определите значение переменной а после выполнения алгоритма:

```
a := 6
b := 2
b := a/2*b
a := 2*a+3*b
```

В ответе укажите одно целое число – значение переменной а.

Ответ: \_\_\_\_\_.

- 9 Запишите значение переменной s, полученное в результате работы следующей программы. Текст программы приведён на трёх языках программирования.

Алгоритмический язык	Бейсик	Паскаль
<pre>алг нач   цел s, k   s := 0   нц для k от 6 до 12     s := s+10   кц   вывод s кон</pre>	<pre>DIM k, s AS INTEGER s = 0 FOR k = 6 TO 12   s = s+10 NEXT k PRINT s</pre>	<pre>Var s,k: integer; Begin   s := 0;   for k := 6 to 12 do     s := s+10;   writeln(s); End.</pre>

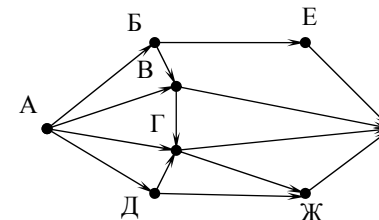
Ответ: \_\_\_\_\_.

- 10 В таблице Dat представлены данные о количестве голосов, поданных за 10 исполнителей народных песен (Dat [1] – количество голосов, поданных за первого исполнителя; Dat [2] – за второго и т. д.). Определите, какое число будет напечатано в результате работы следующей программы. Текст программы приведён на трёх языках программирования.

Алгоритмический язык	Бейсик	Паскаль
<pre>алг нач   целтаб Dat [1:10]   цел k, m   Dat [1] := 16   Dat [2] := 20   Dat [3] := 20   Dat [4] := 41   Dat [5] := 14   Dat [6] := 21   Dat [7] := 28   Dat [8] := 12   Dat [9] := 15   Dat [10] := 35   m := 0   нц для k от 1 до 10     если Dat [k] &gt; m то       m := Dat [k]     все   кц   вывод m кон</pre>	<pre>DIM Dat (10) AS INTEGER DIM k,m AS INTEGER Dat (1) = 16: Dat (2) = 20 Dat (3) = 20: Dat (4) = 41 Dat (5) = 14: Dat (6) = 21 Dat (7) = 28: Dat (8) = 12 Dat (9) = 15: Dat (10) = 35 m = 0 FOR k = 1 TO 10   IF Dat (k) &gt; m THEN     m = Dat (k)   ENDIF NEXT k PRINT m</pre>	<pre>Var k, m: integer; Dat: array [1..10] of integer; Begin   Dat [1] := 16; Dat [2] := 20;   Dat [3] := 20; Dat [4] := 41;   Dat [5] := 14; Dat [6] := 21;   Dat [7] := 28; Dat [8] := 12;   Dat [9] := 15; Dat [10] := 35;   m := 0;   for k := 1 to 10 do     if Dat [k] &gt; m then       begin         m := Dat [k]       end;   writeln(m); End.</pre>

Ответ: \_\_\_\_\_.

- 11 На рисунке – схема дорог, связывающих города А, Б, В, Г, Д, Е, Ж и К. По каждой дороге можно двигаться только в одном направлении, указанном стрелкой. Сколько существует различных путей из города А в город К?



Ответ: \_\_\_\_\_.

- 12** Ниже в табличной форме представлен фрагмент базы данных «Отправление поездов дальнего следования».

Пункт назначения	Категория поезда	Время в пути	Вокзал
Махачкала	скорый	39.25	Павелецкий
Махачкала	скорый	53.53	Курский
Мурманск	скорый	35.32	Ленинградский
Мурманск	скорый	32.50	Ленинградский
Мурманск	пассажирский	37.52	Ленинградский
Мурманск	пассажирский	37.16	Ленинградский
Назрань	пассажирский	40.23	Павелецкий
Нальчик	скорый	34.55	Казанский
Нерюнгри	скорый	125.41	Казанский
Новосибирск	скорый	47.30	Ярославский
Нижевартовск	скорый	52.33	Казанский
Нижний Тагил	фирменный	31.36	Ярославский

Сколько записей в данном фрагменте удовлетворяют условию **(Категория поезда = «скорый») И (Время в пути > 36.00)**?  
В ответе укажите одно число – искомое количество записей.

Ответ: \_\_\_\_\_.

- 13** Переведите число 126 из десятичной системы счисления в двоичную систему счисления.  
В ответе укажите двоичное число. Основание системы счисления указывать не нужно.

Ответ: \_\_\_\_\_.

- 14** У исполнителя Делитель две команды, которым присвоены номера:  
**1. раздели на 2**  
**2. вычти 1**

Первая из них уменьшает число на экране в 2 раза, вторая уменьшает его на 1.

Исполнитель работает только с натуральными числами.

Составьте алгоритм получения **из числа 65 числа 4**, содержащий не более 5 команд. В ответе запишите только номера команд.

(Например, 12112 – это алгоритм:

*раздели на 2*

*вычти 1*

*раздели на 2*

*раздели на 2*

*вычти 1,*

*который преобразует число 42 в число 4).*

Если таких алгоритмов более одного, то запишите любой из них.

Ответ: \_\_\_\_\_.

- 15** Файл размером 2000 Кбайт передаётся через некоторое соединение в течение 30 секунд. Определите размер файла (в Кбайт), который можно передать через это соединение за 12 секунд.  
В ответе укажите одно число – размер файла в Кбайт. Единицы измерения писать не нужно.

Ответ: \_\_\_\_\_.

- 16** Автомат получает на вход трёхзначное десятичное число. По полученному числу строится новое десятичное число по следующим правилам.  
1. Вычисляются два числа – сумма старшего и среднего разрядов, а также сумма среднего и младшего разрядов заданного числа.  
2. Полученные два числа записываются друг за другом в порядке невозрастания (без разделителей).  
Пример. Исходное число: 277. Поразрядные суммы: 9, 14. Результат: 149.

Определите, сколько из приведённых ниже чисел могут получиться в результате работы автомата.

1616 169 163 1916 1619 316 916 116

В ответе запишите только количество чисел.

Ответ: \_\_\_\_\_.

17 Доступ к файлу **rus.doc**, находящемуся на сервере **obr.org**, осуществляется по протоколу **https**. Фрагменты адреса файла закодированы буквами от А до Ж. Запишите в таблицу последовательность этих букв, кодирующую адрес указанного файла в сети Интернет.

- А) obr.  
 Б) /  
 В) org  
 Г) ://  
 Д) doc  
 Е) rus.  
 Ж) https

Ответ:

18 Приведены запросы к поисковому серверу. Для каждого запроса указан его код – соответствующая буква от А до Г. Запишите в таблицу коды запросов слева направо в порядке **возрастания** количества страниц, которые нашёл поисковый сервер по каждому запросу. По всем запросам было найдено разное количество страниц.

Для обозначения логической операции «ИЛИ» в запросе используется символ «|», а для логической операции «И» – символ «&».

Код	Запрос
А	Солнце & Воздух
Б	Солнце   Воздух   Вода
В	Солнце   Воздух   Вода   Огонь
Г	Солнце   Воздух

Ответ:

**Не забудьте перенести все ответы в бланк ответов № 1 в соответствии с инструкцией по выполнению работы.**

## Часть 2

**Задания этой части (19, 20) выполняются на компьютере. Результатом выполнения задания является отдельный файл (для одного задания – один файл). Формат файла, его имя и каталог для сохранения Вам сообщат организаторы экзамена.**

19 В электронную таблицу занесли данные о калорийности продуктов. Ниже приведены первые пять строк таблицы.

	А	В	С	Д	Е
1	Продукт	Жиры, г	Белки, г	Углеводы, г	Калорийность, Ккал
2	Арахис	45,2	26,3	9,9	552
3	Арахис жареный	52	26	13,4	626
4	Горох отварной	0,8	10,5	20,4	130
5	Горошек зелёный	0,2	5	8,3	55

В столбце А записан продукт; в столбце В – содержание в нём жиров; в столбце С – содержание белков; в столбце Д – содержание углеводов и в столбце Е – калорийность этого продукта.

Всего в электронную таблицу были занесены данные по 1000 продуктам.

### Выполните задание

Откройте файл с данной электронной таблицей (расположение файла Вам сообщат организаторы экзамена). На основании данных, содержащихся в этой таблице, ответьте на два вопроса.

- Сколько продуктов в таблице содержат меньше 50 г углеводов и меньше 50 г белков? Запишите число, обозначающее количество этих продуктов, в ячейку Н2 таблицы.
- Какова средняя калорийность продуктов с содержанием жиров менее 1 г? Запишите значение в ячейку Н3 таблицы с точностью не менее двух знаков после запятой.

Полученную таблицу необходимо сохранить под именем, указанным организаторами экзамена.

**Выберите ОДНО из предложенных ниже заданий: 20.1 или 20.2.**

**20.1**

Исполнитель Робот умеет перемещаться по лабиринту, начерченному на плоскости, разбитой на клетки. Между соседними (по сторонам) клетками может стоять стена, через которую Робот пройти не может.

У Робота есть девять команд. Четыре команды – это команды-приказы:

**вверх вниз влево вправо**

При выполнении любой из этих команд Робот перемещается на одну клетку соответственно: вверх ↑, вниз ↓, влево ←, вправо →. Если Робот получит команду передвижения сквозь стену, то он разрушится.

Также у Робота есть команда **закрасить**, при которой закрашивается клетка, в которой Робот находится в настоящий момент.

Ещё четыре команды – это команды проверки условий. Эти команды проверяют, свободен ли путь для Робота в каждом из четырёх возможных направлений:

**сверху свободно снизу свободно слева свободно справа свободно**

Эти команды можно использовать вместе с условием «если», имеющим следующий вид:

**если условие то**

*последовательность команд*

**все**

Здесь *условие* – одна из команд проверки условия.

*Последовательность команд* – это одна или несколько любых команд-приказов.

Например, для передвижения на одну клетку вправо, если справа нет стенки, и закрашивания клетки можно использовать такой алгоритм:

**если справа свободно то**

**вправо**

**закрасить**

**все**

В одном условии можно использовать несколько команд проверки условий, применяя логические связки **и**, **или**, **не**, например:

**если (справа свободно) и (не снизу свободно) то**

**вправо**

**все**

Для повторения последовательности команд можно использовать цикл «пока», имеющий следующий вид:

**нц пока условие**

*последовательность команд*

**кц**

Например, для движения вправо, пока это возможно, можно использовать следующий алгоритм:

**нц пока справа свободно**

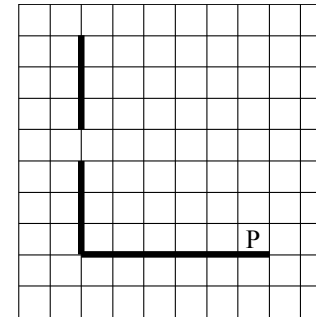
**вправо**

**кц**

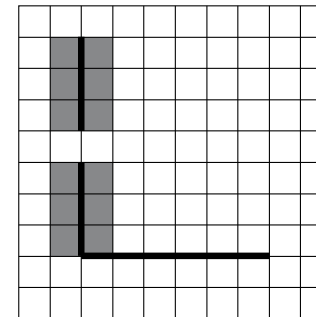
**Выполните задание.**

На бесконечном поле есть горизонтальная и вертикальная стены. Левый конец горизонтальной стены соединён с нижним концом вертикальной стены. **Длины стен неизвестны.** В вертикальной стене есть ровно один проход, точное место прохода и его ширина неизвестны. Робот находится в клетке, расположенной непосредственно над горизонтальной стеной у её правого конца.

На рисунке указан один из возможных способов расположения стен и Робота (Робот обозначен буквой «Р»).



Напишите для Робота алгоритм, закрашивающий все клетки, расположенные непосредственно левее и правее вертикальной стены. Проход должен остаться незакрашенным. Робот должен закрасить только клетки, удовлетворяющие данному условию. Например, для приведённого выше рисунка Робот должен закрасить следующие клетки (см. рисунок).



При исполнении алгоритма Робот не должен разрушиться, выполнение алгоритма должно завершиться. Конечное расположение Робота может быть произвольным.

Алгоритм должен решать задачу для любого допустимого расположения стен и любого расположения и размера прохода внутри стены.

Алгоритм может быть выполнен в среде формального исполнителя или записан в текстовом редакторе.

Сохраните алгоритм в текстовом файле. Название файла и каталог для сохранения Вам сообщат организаторы экзамена.

**20.2**

Напишите программу, которая в последовательности натуральных чисел определяет минимальное число, оканчивающееся на 4. Программа получает на вход количество чисел в последовательности, а затем сами числа. В последовательности всегда имеется число, оканчивающееся на 4.

Количество чисел не превышает 1000. Введённые числа не превышают 30 000.

Программа должна вывести одно число – минимальное число, оканчивающееся на 4.

**Пример работы программы:**

Входные данные	Выходные данные
3 24 14 34	14

## Система оценивания экзаменационной работы по информатике и ИКТ

### Часть 1

Каждое из заданий части 1 оценивается 1 баллом.

№ задания	Ответ
1	2
2	1
3	2
4	1
5	3
6	1
7	АДЖЛДЛАЛ
8	30
9	70
10	41
11	12
12	5
13	1111110
14	21111
15	800
16	3
17	ЖГАВББД
18	АГБВ



## Часть 2

## Критерии оценивания заданий с развёрнутым ответом

- 19 В электронную таблицу занесли данные о калорийности продуктов. Ниже приведены первые пять строк таблицы.

	<b>A</b>	<b>B</b>	<b>C</b>	<b>D</b>	<b>E</b>
<b>1</b>	Продукт	Жиры, г	Белки, г	Углеводы, г	Калорийность, Ккал
<b>2</b>	Арахис	45,2	26,3	9,9	552
<b>3</b>	Арахис жареный	52	26	13,4	626
<b>4</b>	Горох отварной	0,8	10,5	20,4	130
<b>5</b>	Горошек зелёный	0,2	5	8,3	55

В столбце A записан продукт; в столбце B – содержание в нём жиров; в столбце C – содержание белков; в столбце D – содержание углеводов и в столбце E – калорийность этого продукта.

Всего в электронную таблицу были занесены данные по 1000 продуктам.

**Выполните задание**

Откройте файл с данной электронной таблицей (расположение файла Вам сообщает организаторы экзамена). На основании данных, содержащихся в этой таблице, ответьте на два вопроса.

1. Сколько продуктов в таблице содержат меньше 50 г углеводов и меньше 50 г белков? Запишите число этих продуктов в ячейку H2 таблицы.
2. Какова средняя калорийность продуктов с содержанием жиров менее 1 г? Ответ на этот вопрос запишите в ячейку H3 таблицы с точностью не менее двух знаков после запятой.

Полученную таблицу необходимо сохранить под именем, указанным организаторами экзамена.

**Содержание верного ответа и указания по оцениванию**

(допускаются иные формулировки ответа, не искажающие его смысла)

**Решение для OpenOffice.org Calc и для Microsoft Excel**

Первая формула используется для русскоязычной записи функций; вторая – для англоязычной.

В ячейку F2 запишем формулу

=ЕСЛИ(И(D2<50;C2<50);1;0)

=IF(AND(D2<50;C2<50);1;0)

Скопируем формулу во все ячейки диапазона F3:F1001.

В ячейку H2 запишем формулу

=СУММ(F2:F1001)

=SUM(F2:F1001)

В ячейку H3 запишем формулу

=СУММЕСЛИ(B2:B1001;"<1";E2:E1001)/СЧЁТЕСЛИ(B2:B1001;"<1")

=SUMIF(B2:B1001;"<1";E2:E1001)/COUNTIF(B2:B1001;"<1")

Возможны и другие варианты решения.

Если задание выполнено правильно и при выполнении задания использовались файлы, специально подготовленные для проверки выполнения данного задания, то должны получиться следующие ответы:

на первый вопрос: 864;

на второй вопрос: 89,45

<b>Указания по оцениванию</b>	<b>Баллы</b>
Получены правильные ответы на оба вопроса. Допустима запись ответа в другие ячейки (отличные от тех, которые указаны в задании) при условии правильности полученных ответов. Допустима запись ответов с большей точностью	2
Получен правильный ответ только на один из двух вопросов	1
Правильные ответы не получены ни на один из вопросов	0
<i>Максимальный балл</i>	2

20.1

Исполнитель Робот умеет перемещаться по лабиринту, начерченному на плоскости, разбитой на клетки. Между соседними (по сторонам) клетками может стоять стена, через которую Робот пройти не может.

У Робота есть девять команд. Четыре команды – это команды-приказы:

**вверх вниз влево вправо**

При выполнении любой из этих команд Робот перемещается на одну клетку соответственно: вверх ↑, вниз ↓, влево ←, вправо →. Если Робот получит команду передвижения сквозь стену, то он разрушится.

Также у Робота есть команда **закрасить**, при которой закрашивается клетка, в которой Робот находится в настоящий момент.

Ещё четыре команды – это команды проверки условий. Эти команды проверяют, свободен ли путь для Робота в каждом из четырёх возможных направлений:

**сверху свободно снизу свободно слева свободно справа свободно**

Эти команды можно использовать вместе с условием «если», имеющим следующий вид:

**если условие то**

*последовательность команд*

**все**

Здесь *условие* – одна из команд проверки условия.

*Последовательность команд* – это одна или несколько любых команд-приказов.

Например, для передвижения на одну клетку вправо, если справа нет стенки, и закрашивания клетки можно использовать такой алгоритм:

**если справа свободно то**

**вправо**

**закрасить**

**все**

В одном условии можно использовать несколько команд проверки условий, применяя логические связки **и**, **или**, **не**, например:

**если (справа свободно) и (не снизу свободно) то**

**вправо**

**все**

Для повторения последовательности команд можно использовать цикл «пока», имеющий следующий вид:

**нц пока условие**

*последовательность команд*

**кц**

Например, для движения вправо, пока это возможно, можно использовать следующий алгоритм:

**нц пока справа свободно**

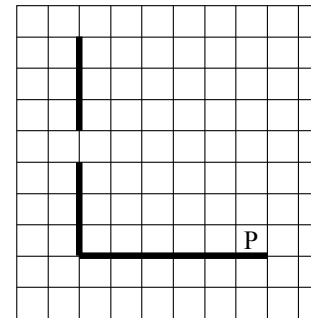
**вправо**

**кц**

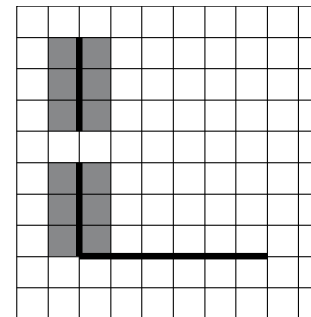
**Выполните задание.**

На бесконечном поле есть горизонтальная и вертикальная стены. Левый конец горизонтальной стены соединён с нижним концом вертикальной стены. **Длины стен неизвестны.** В вертикальной стене есть ровно один проход, точное место прохода и его ширина неизвестны. Робот находится в клетке, расположенной непосредственно над горизонтальной стеной у её правого конца.

На рисунке указан один из возможных способов расположения стен и Робота (Робот обозначен буквой «Р»).



Напишите для Робота алгоритм, закрашивающий все клетки, расположенные непосредственно левее и правее вертикальной стены. Проход должен остаться незакрашенным. Робот должен закрасить только клетки, удовлетворяющие данному условию. Например, для приведённого выше рисунка Робот должен закрасить следующие клетки (см. рисунок).



При исполнении алгоритма Робот не должен разрушиться, выполнение алгоритма должно завершиться. Конечное положение Робота может быть произвольным.

Алгоритм должен решать задачу для любого допустимого расположения стен и любого расположения и размера прохода внутри стены.

Алгоритм может быть выполнен в среде формального исполнителя или записан в текстовом редакторе.

Сохраните алгоритм в текстовом файле. Название файла и каталог для сохранения Вам сообщат организаторы экзамена.

### Содержание верного ответа и указания по оцениванию

(допускаются иные формулировки ответа, не искажающие его смысла)

Команды исполнителя будем записывать жирным шрифтом, а комментарии – курсивом. Начало комментария будем обозначать символом «|».

*|Двигаемся влево, пока не дойдём до вертикальной стены.*

**нц пока слева свободно**

**влево**

**кц**

*|Двигаемся вверх, пока не дойдём до прохода в стене, и закрашиваем клетки.*

**нц пока не слева свободно**

**закрасить**

**вверх**

**кц**

*|Двигаемся дальше до вертикальной стены.*

**нц пока слева свободно**

**вверх**

**кц**

*|Двигаемся вверх до конца стены и закрашиваем клетки.*

**нц пока не слева свободно**

**закрасить**

**вверх**

**кц**

*|Обходим стену.*

**влево**

**вниз**

*|Двигаемся вниз, пока не дойдём до прохода в стене, и закрашиваем клетки.*

**нц пока не справа свободно**

**закрасить**

**вниз**

**кц**

*|Двигаемся дальше до вертикальной стены.*

**нц пока справа свободно**

**вниз**

**кц**

*|Двигаемся вниз до конца стены и закрашиваем клетки.*

**нц пока не справа свободно**

**закрасить**

**вниз**

**кц**

Возможны и другие варианты решения.

Допускается использование иного синтаксиса инструкций исполнителя, более привычного для учащихся.

Допускается наличие отдельных синтаксических ошибок, не искажающих замысла автора решения

Указания по оцениванию	Баллы
Алгоритм правильно работает при всех допустимых исходных данных	2
При всех допустимых исходных данных верно следующее: 1) выполнение алгоритма завершается, и при этом Робот не разбивается; 2) закрашено не более 10 лишних клеток; 3) остались незакрашенными не более 10 клеток из числа тех, которые должны были быть закрашены	1
Задание выполнено неверно, т. е. не выполнены условия, позволяющие поставить 1 или 2 балла	0
<i>Максимальный балл</i>	2

**20.2**

Напишите программу, которая в последовательности натуральных чисел определяет минимальное число, оканчивающееся на 4. Программа получает на вход количество чисел в последовательности, а затем сами числа. В последовательности всегда имеется число, оканчивающееся на 4.

Количество чисел не превышает 1000. Введённые числа не превышают 30 000.

Программа должна вывести одно число – минимальное число, оканчивающееся на 4.

**Пример работы программы:**

Входные данные	Выходные данные
3 24 14 34	14

**Содержание верного ответа и указания по оцениванию**

(допускаются иные формулировки ответа, не искажающие его смысла)

Решением является программа, записанная на любом языке программирования. Пример верного решения, записанного на языке Паскаль:

```
var n,i,a,min: integer;
begin
  readln(n);
  min := 30001;
  for i := 1 to n do
    begin
      readln(a);
      if (a mod 10 = 4) and (a < min)
        then min := a;
    end;
  writeln(min)
end.
```

Возможны и другие варианты решения.

Для проверки правильности работы программы необходимо использовать следующие тесты.

№	Входные данные	Выходные данные
1	3 2 4 19	4
2	3 14 24 44	14
3	3 24 44 4	4

Указания по оцениванию	Баллы
Предложено верное решение. Программа правильно работает на всех приведённых выше тестах. Программа может быть записана на любом языке программирования	2
Программа выдаёт неверный ответ на одном из тестов, приведённых выше. Например, решение, в котором не задано условие отбора чисел ( $a \bmod 10 = 4$ ), выдаст неправильный ответ на тесте № 1	1
Программа выдаёт на тестах неверные ответы, отличные от описанных в критерии на 1 балл	0
<i>Максимальный балл</i>	2

В соответствии с Порядком проведения государственной итоговой аттестации по образовательным программам основного общего образования (приказ Минобрнауки России от 25.12.2013 № 1394 зарегистрирован Минюстом России 03.02.2014 № 31206)

«48. Экзаменационные работы проверяются двумя экспертами. По результатам проверки эксперты независимо друг от друга выставляют баллы за каждый ответ на задания экзаменационной работы... В случае существенного расхождения в баллах, выставленных двумя экспертами, назначается третья проверка. Существенное расхождение в баллах определено в критериях оценивания по соответствующему учебному предмету.

Третий эксперт назначается председателем предметной комиссии из числа экспертов, ранее не проверявших экзаменационную работу.

Третьему эксперту предоставляется информация о баллах, выставленных экспертами, ранее проверявшими экзаменационную работу обучающегося. Баллы, выставленные третьим экспертом, являются окончательными».

Если расхождение составляет 2 балла за выполнение любого из заданий 19 – 20, то третий эксперт проверяет только те задания, которые вызвали столь существенное расхождение.

**Государственная итоговая аттестация по образовательным программам основного общего образования в форме основного государственного экзамена (ОГЭ)**

**Кодификатор  
элементов содержания и требований к уровню  
подготовки обучающихся для проведения основного  
государственного экзамена по ИНФОРМАТИКЕ и ИКТ**

подготовлен Федеральным государственным бюджетным  
научным учреждением  
«ФЕДЕРАЛЬНЫЙ ИНСТИТУТ ПЕДАГОГИЧЕСКИХ ИЗМЕРЕНИЙ»

**Кодификатор  
элементов содержания и требований к уровню подготовки обучающихся  
для проведения основного государственного экзамена  
по ИНФОРМАТИКЕ и ИКТ**

Кодификатор элементов содержания и требований к уровню подготовки обучающихся для проведения основного государственного экзамена по информатике и ИКТ (далее – кодификатор) является одним из документов, определяющих структуру и содержание контрольных измерительных материалов (далее – КИМ). Кодификатор является систематизированным перечнем требований к уровню подготовки выпускников и проверяемых элементов содержания, в котором каждому объекту соответствует определенный код.

Кодификатор составлен на базе Федерального компонента государственного стандарта основного общего образования по информатике и ИКТ (утвержден приказом Минобрнауки России от 05.03.2004 № 1089).

Кодификатор состоит из двух разделов:

- Раздел 1. «Перечень элементов содержания, проверяемых на основном государственном экзамене по ИНФОРМАТИКЕ и ИКТ»;
- Раздел 2. «Перечень требований к уровню подготовки обучающихся, освоивших общеобразовательные программы основного общего образования по ИНФОРМАТИКЕ и ИКТ».

В кодификаторе два раздела, так как для описания каждого из заданий экзаменационной работы используется два кода: код, описывающий проверяемый элемент содержания (раздел 1), и код, описывающий проверяемое требование к уровню подготовки выпускника (раздел 2).

В кодификаторе не включены элементы содержания, выделенные курсивом в разделе стандарта «Обязательный минимум содержания основных образовательных программ»: данное содержание подлежит изучению, но не включено в раздел стандарта «Требования к уровню подготовки выпускников», т.е. не является объектом контроля. Также в кодификаторе не включены те требования к уровню подготовки выпускников, достижение которых не может быть проверено в рамках государственной итоговой аттестации.

**Раздел 1. Перечень элементов содержания, проверяемых на основном государственном экзамене по ИНФОРМАТИКЕ и ИКТ**

В первом и втором столбцах таблицы указаны коды содержательных блоков, на которые разбит учебный курс. В первом столбце обозначены коды разделов (крупных содержательных блоков). Во втором столбце указан код элемента содержания (темы), для которого создаются проверочные задания.

Код раздела	Код элемента	Описание элементов содержания, проверяемых в ходе экзамена
1	<b>ИНФОРМАЦИОННЫЕ ПРОЦЕССЫ</b>	
1.1	<b>Представление информации</b>	
	1.1.1	Информация. Язык как способ представления и передачи информации: естественные и формальные языки
	1.1.2	Формализация описания реальных объектов и процессов, моделирование объектов и процессов
	1.1.3	Дискретная форма представления информации. Единицы измерения количества информации
1.2	<b>Передача информации</b>	
	1.2.1	Процесс передачи информации, источник и приемник информации, сигнал, скорость передачи информации
	1.2.2	Кодирование и декодирование информации
1.3	<b>Обработка информации</b>	
	1.3.1	Алгоритм, свойства алгоритмов, способы записи алгоритмов. Блок-схемы. Представление о программировании
	1.3.2	Алгоритмические конструкции.
	1.3.3	Логические значения, операции, выражения
	1.3.4	Разбиение задачи на подзадачи, вспомогательный алгоритм
	1.3.5	Обрабатываемые объекты: цепочки символов, числа, списки, деревья
1.4	<b>Компьютер как универсальное устройство обработки информации</b>	
	1.4.1	Основные компоненты компьютера и их функции
	1.4.2	Командное взаимодействие пользователя с компьютером, графический интерфейс пользователя
	1.4.3	Программное обеспечение, его структура. Программное обеспечение общего назначения
2	<b>ИНФОРМАЦИОННЫЕ И КОММУНИКАЦИОННЫЕ ТЕХНОЛОГИИ</b>	
2.1	<b>Основные устройства, используемые в ИКТ</b>	
	2.1.1	Соединение блоков и устройств компьютера, других средств ИКТ; простейшие операции по управлению (включение и выключение, понимание сигналов о готовности и неполадке и т. д.); использование различных носителей информации, расходных материалов. Гигиенические, эргономические и технические условия безопасной эксплуатации средств ИКТ

	2.1.2	Создание, именование, сохранение, удаление объектов, организация их семейств. Файлы и файловая система. Архивирование и разархивирование. Защита информации от компьютерных вирусов
	2.1.3	Оценка количественных параметров информационных объектов. Объем памяти, необходимый для хранения объектов
	2.1.4	Оценка количественных параметров информационных процессов. Скорость передачи и обработки объектов, стоимость информационных продуктов, услуг связи
2.2	<b>Запись средствами ИКТ информации об объектах и о процессах окружающего мира</b>	
	2.2.1	Запись изображений и звука с использованием различных устройств
	2.2.2	Запись текстовой информации с использованием различных устройств
	2.2.3	Запись музыки с использованием различных устройств
	2.2.4	Запись таблиц результатов измерений и опросов с использованием различных устройств
2.3	<b>Создание и обработка информационных объектов</b>	
	2.3.1	Создание текста посредством квалифицированного клавиатурного письма с использованием базовых средств текстовых редакторов. Работа с фрагментами текста. Страница. Абзацы, ссылки, заголовки, оглавления. Проверка правописания, словари. Включение в текст списков, таблиц, изображений, диаграмм, формул
	2.3.2	Базы данных. Поиск данных в готовой базе. Создание записей в базе данных
	2.3.3	Рисунки и фотографии. Ввод изображений с помощью инструментов графического редактора, сканера, графического планшета, использование готовых графических объектов. Геометрические и стилевые преобразования. Использование примитивов и шаблонов
2.4	<b>Поиск информации</b>	
	2.4.1	Компьютерные энциклопедии и справочники; информация в компьютерных сетях, некомпьютерных источниках информации. Компьютерные и некомпьютерные каталоги, поисковые машины, формулирование запросов

2.5	<b>Проектирование и моделирование</b>	
	2.5.1	Чертежи. Двумерная графика. Использование стандартных графических объектов и конструирование графических объектов: выделение, объединение, геометрические преобразования фрагментов и компонентов
	2.5.2	Диаграммы, планы, карты
	2.5.3	Простейшие управляемые компьютерные модели
2.6	<b>Математические инструменты, динамические (электронные) таблицы</b>	
	2.6.1	Таблица как средство моделирования. Ввод данных в готовую таблицу, изменение данных, переход к графическому представлению
	2.6.2	Ввод математических формул и вычисления по ним
	2.6.3	Представление формульной зависимости в графическом виде
2.7	<b>Организация информационной среды</b>	
	2.7.1	Создание и обработка комплексных информационных объектов в виде печатного текста, веб-страницы, презентации с использованием шаблонов
	2.7.2	Электронная почта как средство связи; правила переписки, приложения к письмам, отправка и получение сообщения
	2.7.3	Сохранение информационных объектов из компьютерных сетей и ссылок на них для индивидуального использования (в том числе из Интернета)
	2.7.4	Организация информации в среде коллективного использования информационных ресурсов. Примеры организации коллективного взаимодействия: форум, телеконференция, чат

## Раздел 2. Перечень требований к уровню подготовки обучающихся, освоивших общеобразовательные программы основного общего образования по ИНФОРМАТИКЕ и ИКТ

Перечень требований к уровню подготовки выпускников основной школы, достижение которых проверяется на ОГЭ по информатике и ИКТ, составлен на основе раздела «Требования к уровню подготовки выпускников» Федерального компонента государственного стандарта основного общего образования.

В таблице коды даны в первом столбце таблицы, второй столбец содержит описание проверяемых требований.

Код требований	Описание требований к уровню подготовки, освоение которых проверяется в ходе экзамена
<b>1</b>	<b>Знать/Понимать:</b>
1.1	виды информационных процессов, примеры источников и приемников информации;
1.2	единицы измерения количества и скорости передачи информации, принцип дискретного (цифрового) представления информации;
1.3	основные свойства алгоритма, типы алгоритмических конструкций: следование, ветвление, цикл; понятие вспомогательного алгоритма;
1.4	программный принцип работы компьютера;
1.5	назначение и функции используемых информационных и коммуникационных технологий
<b>2</b>	<b>Уметь:</b>
2.1	выполнять базовые операции над объектами: цепочками символов, числами, списками, деревьями; проверять свойства этих объектов; выполнять и строить простые алгоритмы;
2.2	оперировать информационными объектами, используя графический интерфейс: открывать, именовать, сохранять объекты, архивировать и разархивировать информацию, пользоваться меню и окнами, справочной системой; предпринимать меры антивирусной безопасности;
2.3	оценивать числовые параметры информационных объектов и процессов: объем памяти, необходимый для хранения информации; скорость передачи информации;
2.4	создавать информационные объекты, в том числе:
2.4.1	структурировать текст, используя нумерацию страниц, списки, ссылки, оглавления; проводить проверку правописания; использовать в тексте таблицы, изображения;
2.4.2	создавать и использовать различные формы представления информации: формулы, графики, диаграммы, таблицы (в том числе динамические, электронные, в частности в практических задачах); переходить от одного представления данных к другому;
2.4.3	создавать рисунки, чертежи, графические представления реального объекта, в частности в процессе проектирования с использованием основных операций графических редакторов, учебных систем автоматизированного проектирования; осуществлять простейшую обработку цифровых изображений;
2.4.4	создавать записи в базе данных;

2.4.5	создавать презентации на основе шаблонов;
2.5	искать информацию с применением правил поиска (построения запросов) в базах данных, компьютерных сетях, некомпьютерных источниках информации (справочниках и словарях, каталогах, библиотеках);
2.6	пользоваться персональным компьютером и его периферийным оборудованием; следовать требованиям техники безопасности, гигиены, эргономики и ресурсосбережения при работе со средствами информационных и коммуникационных технологий
3	<b><i>Использовать приобретенные знания и умения в практической деятельности и повседневной жизни:</i></b>
3.1	создавать простейшие модели объектов и процессов в виде изображений и чертежей, динамических (электронных) таблиц, программ (в том числе в форме блок-схем);
3.2	проводить компьютерные эксперименты с использованием готовых моделей объектов и процессов;
3.3	создавать информационные объекты, в том числе для оформления результатов учебной работы;
3.4	передавать информацию по телекоммуникационным каналам в учебной и личной переписке, использовать информационных ресурсов общества с соблюдением соответствующих правовых и этических норм



**Государственная итоговая аттестация по образовательным программам основного общего образования в форме основного государственного экзамена (ОГЭ)**

**Спецификация  
контрольных измерительных материалов для проведения  
в 2017 году основного государственного экзамена  
по ИНФОРМАТИКЕ и ИКТ**

подготовлена Федеральным государственным бюджетным  
научным учреждением  
«ФЕДЕРАЛЬНЫЙ ИНСТИТУТ ПЕДАГОГИЧЕСКИХ ИЗМЕРЕНИЙ»

**Спецификация  
контрольных измерительных материалов для проведения  
в 2017 году основного государственного экзамена  
по ИНФОРМАТИКЕ и ИКТ**

**1. Назначение КИМ для ОГЭ** – оценить уровень общеобразовательной подготовки по информатике и ИКТ выпускников IX классов общеобразовательных организаций в целях государственной итоговой аттестации выпускников. Результаты экзамена могут быть использованы при приеме обучающихся в профильные классы средней школы.

ОГЭ проводится в соответствии с Федеральным законом от 29.12.2012 № 273-ФЗ «Об образовании в Российской Федерации».

**2. Документы, определяющие содержание КИМ**

Содержание экзаменационной работы определяется на основе приказа Министерства образования РФ от 05.03.2004 № 1089 «Об утверждении Федерального компонента государственных образовательных стандартов начального общего, основного общего и среднего (полного) общего образования».

**3. Подходы к отбору содержания, разработке структуры КИМ**

Экзаменационная работа охватывает основное содержание курса информатики и ИКТ. Охвачен наиболее значимый материал, однозначно трактуемый в большинстве преподаваемых в школе вариантов курса информатики и ИКТ и входящий в Федеральный компонент государственного образовательного стандарта основного общего образования.

Содержание заданий разработано по основным темам курса информатики и ИКТ, объединенных в следующие тематические блоки: «Представление и передача информации» (разделы 1.1 и 1.2 кодификатора), «Обработка информации» (разделы 1.3 и 1.4 кодификатора), «Основные устройства ИКТ» (раздел 2.1 кодификатора), «Запись средствами ИКТ информации об объектах и о процессах, создание и обработка информационных объектов» (разделы 2.2 и 2.3 кодификатора), «Проектирование и моделирование» (раздел 2.5 кодификатора), «Математические инструменты, электронные таблицы» (раздел 2.6 кодификатора), «Организация информационной среды, поиск информации» (разделы 2.7 и 2.4 кодификатора).

В работу не включены задания, требующие простого воспроизведения знания терминов, понятий, величин, правил. При выполнении любого из заданий от экзаменуемого требуется решить какую-либо задачу: либо прямо использовать известное правило, алгоритм, умение; либо выбрать из общего количества изученных понятий и алгоритмов наиболее подходящее и применить его в известной либо новой ситуации.

Часть 2 работы содержит практические задания, проверяющие наиболее важные практические навыки курса информатики и ИКТ: умение обработать большой информационный массив данных и умение разработать и записать простой алгоритм.

Экзаменационные задания не требуют от учащихся знаний конкретных операционных систем и программных продуктов, навыков работы с ними. Проверяемыми элементами являются основные принципы представления, хранения и обработки информации, навыки работы с такими категориями программного обеспечения, как электронная (динамическая) таблица и среда формального исполнителя, а не знание особенностей конкретных программных продуктов. Практическая часть работы может быть выполнена с использованием различных операционных систем и различных прикладных программных продуктов.

#### 4. Связь экзаменационной модели ОГЭ с КИМ ЕГЭ

Значительная часть заданий с записью краткого ответа по типу аналогичны заданиям ЕГЭ по информатике и ИКТ, но по содержанию и сложности соответствуют уровню основного общего образования. При этом в работу включены задания из некоторых разделов курса информатики, не входящих в ЕГЭ по информатике и ИКТ (например, задания, относящиеся к технологии обработки больших массивов данных в электронных таблицах).

Одним из отличий в структуре КИМ ОГЭ является формат части 2 работы (задания с развернутым ответом). В отличие от ЕГЭ, где часть 2 выполняется на бланке и результатом выполнения работы является записанное решение, проверяемое экспертом, в ОГЭ часть 2 выполняется на компьютере и проверяемым результатом выполнения задания является файл. Это позволяет существенно расширить возможную тематику заданий и множество проверяемых умений и навыков, а также в дальнейшем перейти к исключительно компьютерной форме сдачи экзамена.

#### 5. Характеристика структуры и содержания КИМ

Экзаменационная работа состоит из двух частей.

Часть 1 содержит 18 заданий базового и повышенного уровней сложности, среди которых 6 заданий с выбором и записью ответа в виде одной цифры и 12 заданий, подразумевающих самостоятельное формулирование и запись экзаменуемым ответа в виде последовательности символов.

Часть 2 содержит 2 задания высокого уровня сложности. Задания этой части подразумевают практическую работу учащихся за компьютером с использованием специального программного обеспечения. Результатом исполнения каждого задания является отдельный файл. Задание 20 дается в двух вариантах: 20.1 и 20.2; экзаменуемый должен выбрать один из вариантов задания.

Среди заданий 1–6 представлены задания из всех тематических блоков, кроме заданий по теме «Организация информационной среды, поиск информации»; среди заданий 7–18 – задания по всем темам, кроме темы «Проектирование и моделирование».

Задания части 2 направлены на проверку практических навыков по работе с информацией в текстовой и табличной формах, а также на умение реализовать сложный алгоритм. При этом задание 20 дается в двух вариантах: задание 20.1 предусматривает разработку алгоритма для формального исполнителя, задание 20.2 заключается в разработке и записи алгоритма на языке программирования. Экзаменуемый самостоятельно выбирает один из двух вариантов задания в зависимости от того, изучал ли он какой-либо язык программирования.

Распределение заданий по частям экзаменационной работы представлено в таблице 1.

Таблица 1

Распределение заданий по частям экзаменационной работы

Части работы	Количество заданий	Максимальный первичный балл	Процент максимального первичного балла за выполнение заданий данной части от максимального первичного балла за всю работу, равного 22	Тип заданий
Часть 1	18	18	82	С кратким ответом
Часть 2	2	4	18	С развернутым ответом
Итого	20	22	100	

#### 6. Распределение заданий КИМ по содержанию, проверяемым умениям и способам деятельности

В работу включены задания из всех разделов, изучаемых в курсе информатики и ИКТ.

Распределение заданий по разделам приведено в таблице 2.

Таблица 2.  
Распределение заданий экзаменационной работы  
по содержательным разделам курса информатики и ИКТ

№	Название раздела	Количество заданий	Максимальный первичный балл	Процент максимального первичного балла за задания данного вида деятельности от максимального первичного балла за всю работу, равного 22
1	Представление и передача информации	4	4	18,3
2	Обработка информации	8	9	40,9
3	Основные устройства ИКТ	2	2	9,1
4	Запись средствами ИКТ информации об объектах и о процессах, создание и обработка информационных объектов	1	1	4,5
5	Проектирование и моделирование	1	1	4,5
6	Математические инструменты, электронные таблицы	2	3	13,6
7	Организация информационной среды, поиск информации	2	2	9,1
	Итого	20	22	100

На уровне *воспроизведения знаний* проверяется такой фундаментальный теоретический материал, как:

- единицы измерения информации;
- принципы кодирования информации;
- моделирование;
- понятие алгоритма, его свойств, способов записи;
- основные алгоритмические конструкции (ветвление и циклы);
- основные элементы математической логики;
- основные понятия, используемые в информационных и коммуникационных технологиях;
- принципы организации файловой системы.

Задания, проверяющие сформированность *умений применять свои знания в стандартной ситуации*, включены в части 1 и 2 работы. Это следующие умения:

- подсчитывать информационный объем сообщения;
- использовать стандартные алгоритмические конструкции для построения алгоритмов для формальных исполнителей;
- формально исполнять алгоритмы, записанные на естественном и алгоритмическом языках;
- создавать и преобразовывать логические выражения;
- оценивать результат работы известного программного обеспечения;
- формулировать запросы к базам данных и поисковым системам.

Материал на проверку сформированности умений применять свои знания в новой ситуации входит в часть 2 работы. Это следующие сложные умения:

- разработка технологии обработки информационного массива с использованием средств электронной таблицы или базы данных;
- разработка алгоритма для формального исполнителя или на языке программирования с использованием условных инструкций и циклов, а также логических связей при задании условий.

Таблица 3.  
Распределение заданий экзаменационной работы  
по проверяемым умениям и способам действий

	Основные умения и способы действий	Количество заданий	Максимальный первичный балл	Процент максимального первичного балла за выполнение заданий данного вида учебной деятельности от максимального первичного балла за всю работу, равного 22
1.	Воспроизводить знания	2	2	9
2.	Выполнять операции над информационными объектами	6	6	27
3.	Оценивать числовые параметры объектов и процессов	4	4	18
4.	Создавать информационные объекты	3	3	14
5.	Осуществлять поиск информации	2	2	9
6.	Использовать знания и умения в практической деятельности	3	5	23
		20	22	100

### 7. Распределение заданий КИМ по уровням сложности

Часть 1 экзаменационной работы содержит 11 заданий базового уровня сложности и 7 заданий повышенного уровня сложности.

Часть 2 содержит 2 задания высокого уровня сложности.

Предполагаемый результат выполнения заданий базового уровня сложности – 60–90%; заданий повышенного уровня – 40–60%; заданий высокого уровня – менее 40%.

Для оценки достижения базового уровня используются задания с записью краткого ответа. Достижение уровня повышенной подготовки проверяется с помощью заданий с кратким и развернутым ответами. Для проверки достижения высокого уровня подготовки в экзаменационной работе используются задания с развернутым ответом. Распределение заданий по уровням сложности представлено в таблице 4.

Таблица 4

Распределение заданий экзаменационной работы по уровням сложности

Уровень сложности заданий	Количество заданий	Максимальный первичный балл	Процент максимального первичного балла за выполнение заданий данного уровня сложности от максимального первичного балла за всю работу, равного 22
Базовый	11	11	50
Повышенный	7	7	32
Высокий	2	4	18
Итого	20	22	100

### 8. Продолжительность ОГЭ по информатике и ИКТ

На выполнение экзаменационной работы отводится 2 часа 30 минут (150 минут).

После выполнения заданий части 1 экзаменуемый сдает бланк для записи ответов и переходит к выполнению заданий части 2.

Время, отводимое на выполнение заданий части 1, не ограничивается, но рекомендуемое время – 1 час 15 минут (75 минут). На выполнение заданий части 2 рекомендуется отводить 1 час 15 минут (75 минут).

### 9. Дополнительные материалы и оборудование

Перечень дополнительных материалов и оборудования, пользование которыми разрешено на ОГЭ, утвержден приказом Минобрнауки России.

Задания части 1 выполняются обучающимися без использования компьютеров и других технических средств. Вычислительная сложность заданий не требует использования калькуляторов, поэтому в целях обеспечения равенства всех участников экзамена использование калькуляторов на экзаменах не разрешается.

Задания части 2 выполняются экзаменуемыми на компьютере. На компьютере должны быть установлены знакомые обучающимся программы.

Для выполнения задания 19 необходима программа для работы с электронными таблицами.

Задание 20 (на составление алгоритма) дается в двух вариантах по выбору обучающегося. Первый вариант задания (20.1) предусматривает разработку алгоритма для исполнителя «Робот». Для выполнения задания 20.1 рекомендуется использование учебной среды исполнителя «Робот». В качестве такой среды может использоваться, например, учебная среда разработки «Кумир», разработанная в НИИСИ РАН (<http://www.niisi.ru/kumir>), или любая другая среда, позволяющая моделировать исполнителя «Робот». В случае, если синтаксис команд исполнителя в используемой среде отличается от того, который дан в задании, допускается внесение изменений в текст задания в части описания исполнителя «Робот». При отсутствии учебной среды исполнителя «Робот» решение задания 20.1 записывается в простом текстовом редакторе.

Второй вариант задания (20.2) предусматривает запись алгоритма на изучаемом языке программирования (если изучение темы «Алгоритмизация» проводится с использованием языка программирования). В этом случае для выполнения задания необходима система программирования, используемая при обучении.

Рекомендуется проводить экзамен в двух аудиториях. В одной (обычной) аудитории обучающиеся выполняют задания части 1, после этого обучающиеся сдают бланки и переходят в другую аудиторию (компьютерный класс) для выполнения заданий части 2.

Выполнением каждого задания части 2 является отдельный файл, подготовленный в соответствующей программе (текстовом редакторе или электронной таблице). Обучающиеся сохраняют данные файлы в каталог под именами, указанными организаторами экзамена.

### 10. Система оценивания выполнения отдельных заданий и экзаменационной работы в целом

Задания в экзаменационной работе в зависимости от их типа и уровня сложности оцениваются разным количеством баллов.

Выполнение каждого задания части 1 оценивается 1 баллом. Задание части 1 считается выполненным, если экзаменуемый дал ответ, соответствующий коду верного ответа. Максимальное количество первичных баллов, которое можно получить за выполнение заданий части 1, равно 18.

Выполнение каждого задания части 2 оценивается от 0 до 2 баллов. Ответы на задания части 2 проверяются и оцениваются экспертами (устанавливается соответствие ответов определенному перечню критериев). Максимальное количество баллов, которое можно получить за выполнение заданий части 2, равно 4.

Максимальное количество первичных баллов, которое можно получить за выполнение всех заданий экзаменационной работы, равно 22.

В соответствии с Порядком проведения государственной итоговой аттестации по образовательным программам основного общего образова-

ния (приказ Минобрнауки России от 25.12.2013 № 1394 зарегистрирован Минюстом России 03.02.2014 № 31206)

«48. Экзаменационные работы проверяются двумя экспертами. По результатам проверки эксперты независимо друг от друга выставляют баллы за каждый ответ на задания экзаменационной работы... В случае существенного расхождения в баллах, выставленных двумя экспертами, назначается третья проверка. Существенное расхождение в баллах определено в критериях оценивания по соответствующему учебному предмету.

Третий эксперт назначается председателем предметной комиссии из числа экспертов, ранее не проверявших экзаменационную работу.

Третьему эксперту предоставляется информация о баллах, выставленных экспертами, ранее проверявшими экзаменационную работу обучающегося. Баллы, выставленные третьим экспертом, являются окончательными».

Если расхождение составляет 2 балла за выполнение любого из заданий 19–20, то третий эксперт проверяет только те задания, которые вызвали столь существенное расхождение.

На основе баллов, выставленных за выполнение всех заданий работы, подсчитывается общий балл, который переводится в отметку по пятибалльной шкале.

### 11. Изменения в КИМ 2017 года по сравнению с КИМ 2016 года

Изменения структуры и содержания КИМ отсутствуют.

Приложение

### Обобщенный план варианта КИМ 2017 года для ГИА выпускников IX классов по ИНФОРМАТИКЕ и ИКТ

Уровни сложности заданий: Б – базовый; П – повышенный; В – высокий.

№ п/п	Проверяемые элементы содержания	Коды проверяемых элементов содержания	Коды требований к уровню подготовки по кодификатору	Уровень сложности задания	Максимальный балл за выполнение задания	Примерное время выполнения задания (мин.)
<b>Часть 1</b>						
1	Умение оценивать количественные параметры информационных объектов	1.1.3	2.3	Б	1	3
2	Умение определять значение логического выражения	1.3.3	2.1	Б	1	3
3	Умение анализировать формальные описания реальных объектов и процессов	1.1.2	2.4.2	Б	1	3
4	Знание о файловой системе организации данных	2.1.2	1.5	Б	1	3
5	Умение представлять формульную зависимость в графическом виде	2.6.3	2.4.2	П	1	6
6	Умение исполнить алгоритм для конкретного исполнителя с фиксированным набором команд	1.3.1	2.1	П	1	6
7	Умение кодировать и декодировать информацию	1.2.2	2.1	Б	1	4
8	Умение исполнить линейный алгоритм, записанный на алгоритмическом языке	1.3.1/ 1.3.2	2.1	Б	1	3
9	Умение исполнить простейший циклический алгоритм, записанный на алгоритмическом языке	1.3.1	2.3	Б	1	4

10	Умение исполнить циклический алгоритм обработки массива чисел, записанный на алгоритмическом языке	1.3.1/ 1.3.2	2.3	П	1	6
11	Умение анализировать информацию, представленную в виде схем	2.5.2/ 1.1.2	2.4.2	Б	1	4
12	Умение осуществлять поиск в готовой базе данных по сформулированному условию	2.3.2	2.5	Б	1	3
13	Знание о дискретной форме представления числовой, текстовой, графической и звуковой информации	1.1.3/ 2.2.1/ 2.2.2	1.2	Б	1	3
14	Умение записать простой линейный алгоритм для формального исполнителя	1.3.1	2.1	П	1	5
15	Умение определять скорость передачи информации	2.1.4/ 1.2.1	2.3	П	1	4
16	Умение исполнить алгоритм, записанный на естественном языке, обрабатывающий цепочки символов или списки	1.3.5	2.1	П	1	7
17	Умение использовать информационно-коммуникационные технологии	2.7.2 2.7.3	3.4	Б	1	3
18	Умение осуществлять поиск информации в Интернете	2.4.1	2.5	П	1	5
<b>Часть 2</b>						
19	Умение проводить обработку большого массива данных с использованием средств электронной таблицы или базы данных	2.3.2/ 2.6.1/ 2.6.2/ 2.6.3	3.1	В	2	30
20	Умение написать короткий алгоритм в среде формального исполнителя (вариант задания 20.1) или на языке программирования (вариант задания 20.2)	1.3.1/ 1.3.2/ 1.3.3/ 1.3.4/ 1.3.5	3.1	В	2	45
<p>Всего заданий – <b>20</b>; из них по уровню сложности: Б – <b>11</b>; П – <b>7</b>; В – <b>2</b>.  Максимальный первичный балл – <b>22</b>.  Общее время выполнения работы – <b>150 минут</b>.</p>						